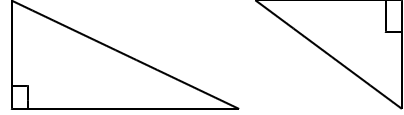


# 直角三角形のきまりを見つけよう

3年( )組( )番( )

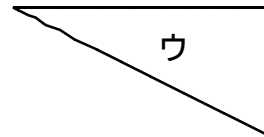
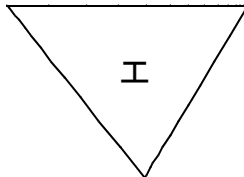
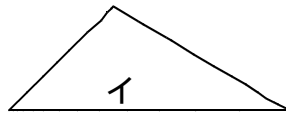
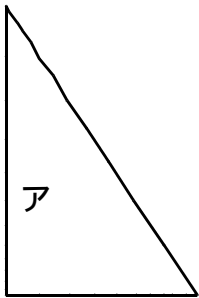
1つのかどが直角になっている三角形を  
( )といいます



同じ直角三角形を2つならべて、べつの大きさの三角形をつくりましょう。  
つくって気がついたことをかきましょう。

<気がついたこと>

直角三角形を見つけましょう。直角のしるしもつけましょう。



直角三角形

身のまわりから、直角三角形を見つけましょう。

<わかったこと>